

SESSION (2023-2024)
CLASS – V
ENGLISH
HOLIDAY ASSIGNMENT

The summer vacation are here, so relax and enjoy yourself. Spend time playing games with your family members, listening to stories from your grandparents, reading story books, or whatever you wish to do...



We would also like all of you not just to relax and rejuvenate but also utilize the time in creative way and revise all the work done in your different subjects. Read a lot of books and watch informative programmes to enhance your knowledge.

Enjoy the vacations with your family and friends. Stay safe, Stay healthy and enjoy refreshing drinks to beat the heat.

➤ **Schedule for submission of holiday homework.**

DATE	DAY	SUBJECT
04.07.23	TUESDAY	HINDI
05.07.23	WEDNESDAY	EVS
06.07.23	THURSDAY	ENGLISH
07.07.23	FRIDAY	MATHS


NOTE – The school will remain closed from 15.05.2023 (Monday) to 30.06.2023 (Friday) and will reopen on 01.07.2023 (Saturday).

❖ Do one page writing for ten days in a separate thin notebook.

(Do the following questions in your English notebook)

Read the story "How the Earth got its Beauty" written by Sudha Murthy and answer the given questions-

- What is the theme of the story?
- Who are the main characters of the story? Write few lines about each of them.
- What was special about the gift that the dwarves gave to Sridhar?
- Why did Keshav and Leela go to Sridhar's new house?
- How did the seawater become salty?
- Draw character sketch of Sudha Murthy and write about her achievements.



Time for Creative Writing-

- Write paragraph on the topic - 'How Society can be benefited by Internet' in about 70-80 words. Illustrate with the help of pictures.
- Imagine yourself as Rakesh from the story "The Cherry Tree". Write a paragraph describing your experience of growing a tree. (Mention the journey of a tree from a sapling to a well grown tree facing all the difficulties)

➤ **Make beautiful chart on the given topic according to your roll no-**

Roll No.	Topic
1 to 10	Any grammar topic
11 to 20	Moral Story using picture
21 to 30	Famous Poem
31 Onwards	Inspirational Quotations

PRACTICE WORKSHEET
CLASS – V
ENGLISH

Name: _____ **Sec:** _____ **Roll No. :** _____

I) Read the poem carefully and answer the following questions-

Daddy Fell into the Pond

Everyone grumbled. The sky was grey.
We had nothing to do and nothing to say.
We were nearing the end of a boring day,
And there seemed to be nothing beyond,
THEN
Daddy fell into the pond!

And everyone's face grew
merry and bright,
And Timothy danced for sheer delight.
"Give me the camera, quick, oh quick!
He's crawling out of the duckweed!"
Click!

Then the gardener suddenly
slapped his knee,
And doubled up, shaking silently,
And the ducks all quacked
as if they were daft,
And it sounded as if the old drake laughed.
Oh, there wasn't a thing that didn't respond
WHEN
Daddy fell into the pond!



a) How was everybody feeling daddy fell into the pond?

b) What did Timothy do?

c) Find the synonyms of the given words from the passage-

i) Quietly - _____ ii) Complained - _____

II) Rearrange the words in proper order to make sentences.

a. washes / and / cups / saucers / she / the / tea / after

b. gardener / is / mowing / lawn / the / the

c. lost / her / Shikha / found / book / cupboard / in / her

d. visited / we / orphanage / Sunday / last / our / with / family

III) Fill in the blanks with correct homophones-

a) I've lost my _____ car keys yesterday. My brother lost his car keys _____. (two/ too)

b) It was only _____ pm when we all _____ the dinner together. (ate / eight)

c) Palak bought _____ packets of chips when she went _____ the market. (to / two)

d) There was a _____ in the carry bag in which I got my _____ pizza. (whole / hole)

IV) Complete the given paragraph using simple present or present continuous tense of the words in the brackets-



Next week, my friends and I _____ (go) for camping in the woods. I _____ (organise) the food, because I _____ (like) cooking. Sumit _____ (bring) the tent. He _____ (go) for camping every year so he _____ (have) a great tent with him. I _____ (excite) for this trip

and hope to enjoy it.

IV) Using given words, create a story from the given picture in about 70-80 words. Give a catchy title to your story.

(prank , mask, scared , laughter, disappeared, shouted, scolded)



Title : _____

अभ्यास कार्य - 2023-2024

कक्षा - पाँचवी

विषय - हिन्दी

- कार्य करते समय स्वच्छता का विशेष ध्यान रखें।
- समस्त लिखित कार्य अपनी कक्षा कार्य कॉपी में कीजिए।

लिखित कार्य

- ✚ रवीन्द्रनाथ टैगोर की कहानी 'काबुली वाला' पढ़िए और निम्नलिखित प्रश्नों के उत्तर लिखिए-
 - 1) कहानी में आए पात्रों के नाम लिखिए -
 - 2) कहानी में आपको कौन - सा पात्र सबसे अच्छा लगा और क्यों?
 - 3) कहानी का वह अंश अपने शब्दों में लिखिए जिसने आपको सबसे ज़्यादा प्रभावित किया और आपने उस अंश से क्या शिक्षा ली?
- ✚ आपके विद्यालय में गर्मियों की छुट्टियों में तैराकी की सुविधा प्रदान की जा रही है। अपने चचेरे भाई को छुट्टियों में तैराकी करने के लिए आमंत्रित करते हुए पत्र लिखिए।
- ✚ चित्रों के आधार पर कहानी लिखिए और अपनी कहानी को एक नाम भी दीजिए।



- ✚ सुंदर लेख आपके आत्मविश्वास का परिचायक होता है इसलिए कम से कम 10 पृष्ठ सुलेख कीजिए।
- ✚ इकाई परीक्षा हेतु पाठ - 1 कविता 'मेलों की वेला' तथा पाठ - 2 'काला ऊदा बादल' के प्रश्न - उत्तर याद कीजिए।

प्रश्न - 1 निम्नलिखित गद्यांश को पढ़कर प्रश्नों के उत्तर दीजिए-

एक भला आदमी अपनी गरीबी से दुखी था। उसकी दशा पर एक चोर को दया आई और उसने कहा - "तुम मेरे साथ चला करो, चोरी में बहुत धन मिलता है।" गरीब व्यक्ति तैयार तो हो गया, परन्तु उसने चोर से कहा - "मुझे चोरी करना तो आता नहीं है। चोरी कैसे करूंगा?" उसके साथी चोर ने कहा - "तुम इसकी चिंता मत करो, मैं सब सीखा दूँगा।" दोनों रात में एक किसान का पका हुआ खेत काटने गए। साथी चोर ने गरीब व्यक्ति को खेत के किनारे खड़ा कर दिया ताकि वह निगरानी करता रहे और चोर खुद फसल काटने में लग गया। तभी गरीब आदमी ने ज़ोर से आवाज़ लगाई - "जल्दी उठो खेत का मालिक पास ही खड़ा देख रहा है।" चोर ने फसल काटना छोड़ दिया और तेज़ी से भागने लगा। कुछ दूर जाकर चोर ने पूछा - "मालिक कहाँ था? कैसे देख रहा था?" गरीब व्यक्ति बोला - "ईश्वर सबका मालिक है और सब कुछ देखता है। वह हमारी चोरी को भी देख रहा था।" चोर पर इस बात का कुछ ऐसा प्रभाव पड़ा कि उसने सदा के लिए चोरी छोड़ दी।

1. भला आदमी चोरी करने के लिए तैयार क्यों हो गया?

- (क) क्योंकि वह चोरी करके धन कमाना चाहता था।
- (ख) क्योंकि वह अपनी गरीबी से दुखी था।
- (ग) क्योंकि वह चोर का साथ देना चाहता था।

2. चोर ने नए साथी को खेत के किनारे क्यों खड़ा कर दिया?

- (क) ताकि वह फसल काट सके।
- (ख) ताकि वह कहीं भाग न जाए।
- (ग) ताकि वह निगरानी करता रहे।



3. चोर पर गरीब आदमी की बातों का क्या प्रभाव पड़ा?

4. 'वह हर जगह मौजूद है।' पंक्ति में 'वह' सर्वनाम किसके लिए प्रयोग किया गया है?

5. इस कहानी से आपको क्या शिक्षा मिली?

प्रश्न - 2 निम्नलिखित अनुच्छेद को पढ़िए और संज्ञा शब्दों को छाँटकर सही भेद के नीचे लिखिए -


सुनीता की बड़ी बहन की शादी थी। उसने विद्यालय से एक सप्ताह की छुट्टी ले ली थी। घर में बहुत चहल-पहल थी। उसने अपनी खास सहेलियों रीमा, अंकिता और अनुराधा को इस अवसर पर आमंत्रित किया था। वह मेहमानों से नम्रता से बातें कर रही थी। सभी एक दूसरे से अपनापन प्रकट कर रहे थे। रसोइया पकवान बना रहा था। मंडप की सजावट देखते ही बनती थी।

व्यक्तिवाचक संज्ञा

जातिवाचक संज्ञा

भाववाचक संज्ञा

प्रश्न - 3 गुब्बारों में दिए गए शब्दों की सहायता से चित्रों के नीचे मुहावरे लिखिए और एक - एक वाक्य बनाइए -



प्रश्न - 4 कोष्ठक में दिए गए शब्दों में से उचित शब्द चुनकर वाक्य पूरे करो -


1. आरती के बाद सभी _____ ग्रहण करें। (प्रसाद / प्रासाद)
2. देखते ही देखते _____ में काली घटाएँ छा गई। (आसमान / असमान)
3. _____ काल से राम कथा घर - घर कहीं व सुनी जाती है। (चोर / चिर)
4. _____ सब्जियों का सेवन आंखों की रोशनी बढ़ाता है। (हरि / हरी)
5. खट्टे आम _____ बनाने के काम आते हैं। (अचार/ आचार)

प्रश्न - 5 संकेत के आधार पर वर्ग पहली पूरी कीजिए-

संकेत

बाएँ से दाएँ →

1. एक से ज्यादा कली
2. बहन का बहुवचन
3. लड़की का बहुवचन
4. अनेक का बांध कराने वाले
5. कक्षा का बहुवचन
6. डंडे का एकवचन
7. झुमके का एकवचन
8. सेविकाएँ का एकवचन



ऊपर से नीचे ↓

1. कहानी का बहुवचन
2. बहू का बहुवचन
3. लड़के का एकवचन
4. किस्सा का बहुवचन
5. झंडे का एकवचन

प्रश्न - 6 दिए गए विषयों पर रंगीन चार्ट का निर्माण कीजिए -


अनुक्रमांक	विषय
1 - 15	प्लास्टिक मुक्त भारत
16 - 30	पाठ्यपुस्तक से अतिरिक्त कोई भी मनपसंद कविता
31 के आगे	वृक्ष लगाओ, धरती बचाओ

MATHEMATICS

- **LEARNING ACTIVITY-** Learn tables 2 to 20.
- **PRACTICE WORK-** Do practice of Ch- 1 Large Numbers and Ch-2 Four Operations
- **ACTIVITY CORNER**
 1. Make a beautiful scenery using patterns of symmetry.
 2. Record the weight of any 5 family members in kg and convert them into grams. (To be done on A4 sheet)
 3. Prepare a chart according to your roll no-

ROLL NO	TOPIC
1-13	Any one famous mathematician
14-26	Types of angles
27-39	Standard and Non-standard units of measurements
40 ONWARDS	Divisibility rules





MEASUREMENT CROSS WORD PUZZLE

Across:

- 1) 12 feet = ___ inches
- 4) 3 yards = ___ inches
- 6) $524 + 451 =$
- 7) $642 - 209 =$
- 8) 75 yards = ___ feet
- 10) 1 down + 2 down =
- 12) $1760 \times 3 =$
- 14) 6 across + 8 across =
- 15) $66 + 96 + 26 =$
- 17) 9 feet = ___ inches
- 19) $704 - 96 =$
- 21) $543 - 100 =$
- 22) $1652 - 802 =$
- 23) 7 yards = ___ inches

1		2		3		4		5
		6						
7						8	9	
			10		11			
12	13				14			
			15	16				
17		18				19		20
				21				
22						23		

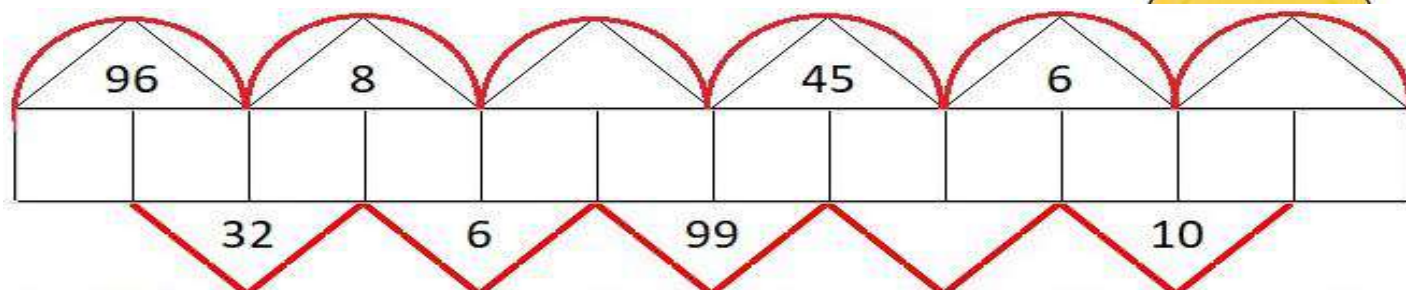
Down:

- 1) 4 yards = ___ inches
- 2) $108 + 385 =$
- 3) $(766 \times 2) + 1 =$
- 4) 34 yards = ___ feet
- 5) $169 \times 5 =$
- 9) 80 yards = ___ feet
- 10) $1300 - 699 =$
- 11) $364 + 354 =$
- 13) $60 \times 4 =$
- 16) 2680 yards = ___ feet
- 17) 9 feet = ___ inches
- 18) $220 \times 4 =$
- 19) $935 - 303 =$
- 20) $400 + 400 + 40 + 2 =$

SCRATCH YOUR BRAIN



1. Write a different number from 1 to 12 in each of the boxes below so that the numbers in each triangle is the product of its adjacent boxes. Then find the missing products.



2. Fill in the missing numbers in magic square such that each row, column and diagonal adds upto the same total.

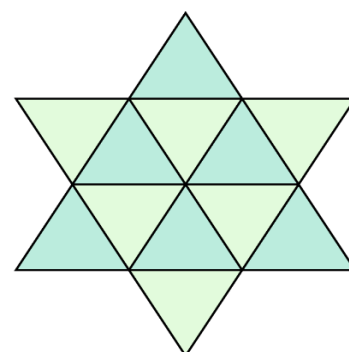
1. The sum is 340.

		160	
120		30	60
	80		150
140	110		40

2. The sum is 102.

48	6	9	
	33		24
27			
	42	45	3

4. Count and write the total number of triangles in the given figure-



WORKSHEET

A. Choose the correct option-

1. The sum $1,20,435+3,474+78,625$ equals which of the following?

a. $32,566+53,677+6,524$ b. $2,534+1,50,456+49,544$ c. Can't say

2. If I double the number of books in my shelf and add 25, I get 754. How many books do I have initially?

a. 729 b. 27 c. 700

3. The sum of two numbers is 32,455,014. If one number is 1,052,010. The other number is-

a. 31,403,004 b. 32,132,243 c. 3,223,235

B. Insert commas and write the number names in both Indian and International system-

i. 25147286-

ii. 50122904-

iii. 949047-

C. Round off the following numbers-

NUMBER	10's	100's	1000's
a. 5,37,497			
b. 72,926			
c. 1,65,003			
d. 8,763,388			
e. 4,09,256			

D. Write the roman numeral of the following-

a. 7653-_____

b. 2082-_____

c. 4489-_____

E. Solve the following-

a. $43,656 \div 106$

b. $78,941 \times 234$

F. Estimate the following by rounding off as directed-

1. $24,31,673 + 31,34,789$ (nearest 10's)

2. $1,45,46,678 - 56,23,173$ (nearest 1000's)

G. A truck can carry 2,764 cartons in one go. How many cartons can be loaded in 653 such trucks?

H. In an election, 26,64,245 people cast votes from city A and 13,56,707 people cast votes from city B. How many more people

cast votes in city A? Also find the total votes casted from both cities.

1. 26,388 packets of wheat need to be distributed equally in 12 cities. Find the number of packets each city will get.

SUMMER ASSIGNMENT (2023-24)
CLASS – V
EVS

➤ Using colourful sheet, Make a travelogue for any state in India of your choice and include the following-

- the name and location of the state
- Write about the interesting spots of the state along with the details of the cuisine, dresses and culture. Paste pictures to make your presentation attractive.
- Lifestyle of the local people.



➤ Project Report:

Many animals are gifted with special senses like some can predict an earthquake. Using colourful scrap book, Prepare a report on any 5 - 7 animals who are having special senses. Paste pictures and write lines about each of them.

(Note - Do the following in your EVS notebook)

Enhance your vocabulary

❖ Read Ch-8 'Agriculture and Food Preservation' from your textbook and prepare a list of fifteen words.

❖ SITUATION BASED QUESTIONS:

a) Suggest any two ways to reduce wastage of food at home? What should be done with the leftover or extra food lying in our house?

b) Describe any three eco-friendly fuels that have helped in reducing environmental pollution.



❖ **Make a chart according to your Roll No.**

<u>Roll No.</u>	<u>Topics</u>
1 to 10	Types of Pollutions
11 to 20	Balanced Diet
21 to 30	Natural Disaster
31 to 40	Food Chain / Food Web
41 Onwards	Indian Heritage (Historical Monuments)

PRACTICE WORKSHEET (2023-24)
CLASS – V
EVS

Name : _____ Sec : _____ Roll No: _____

Q1. Look at the picture carefully and answer the questions-



a) Identify the type of pollution shown in the picture.

b) What are the harmful effects of this pollution on aquatic animals?

c) Mention any two steps taken by the government to clean rivers.

d) State any two ways to reduce this type of pollution.

Q2. Using the given words, label the different parts of digestive system.

Digestive System

Mouth

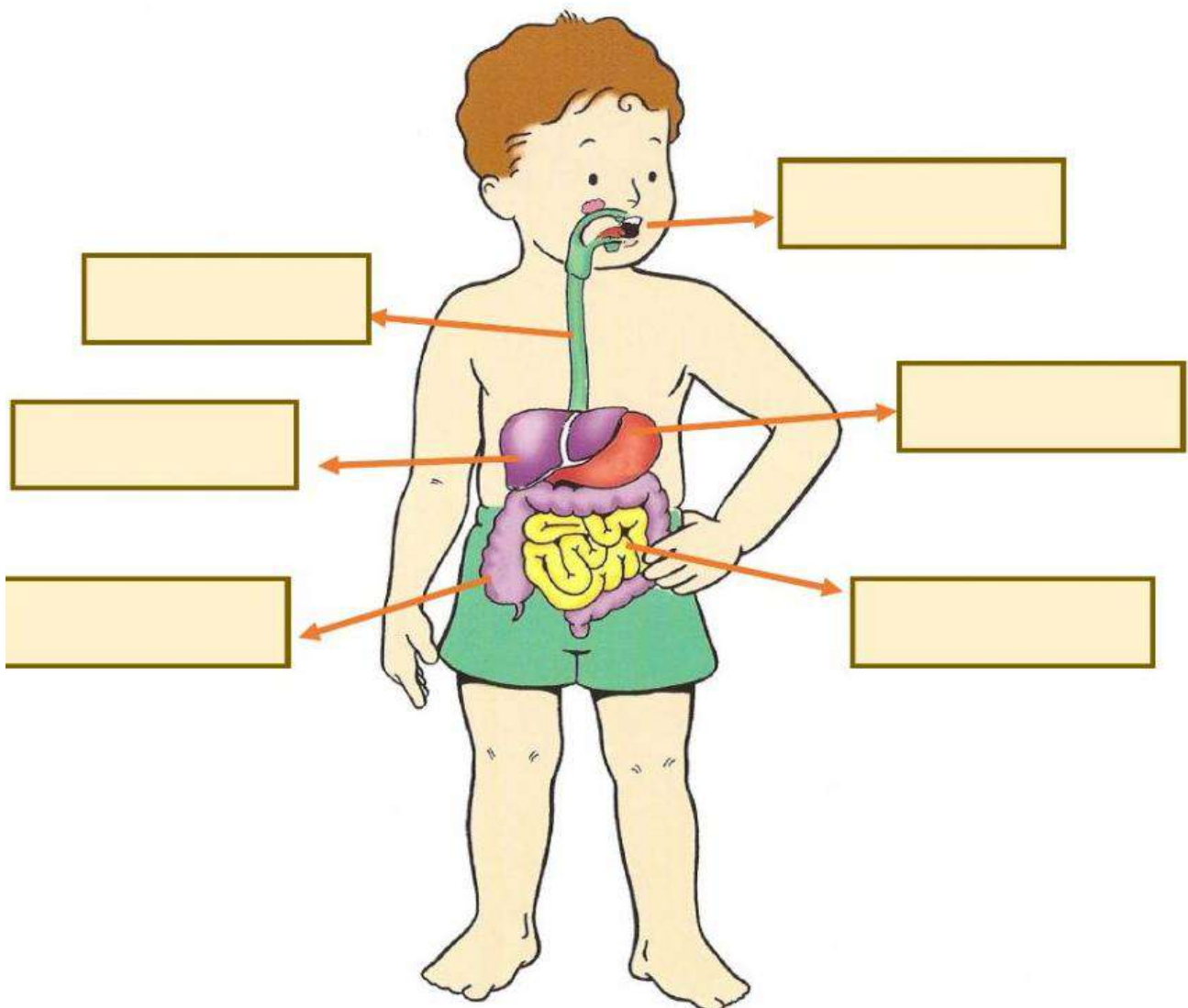
Esophagus

Stomach

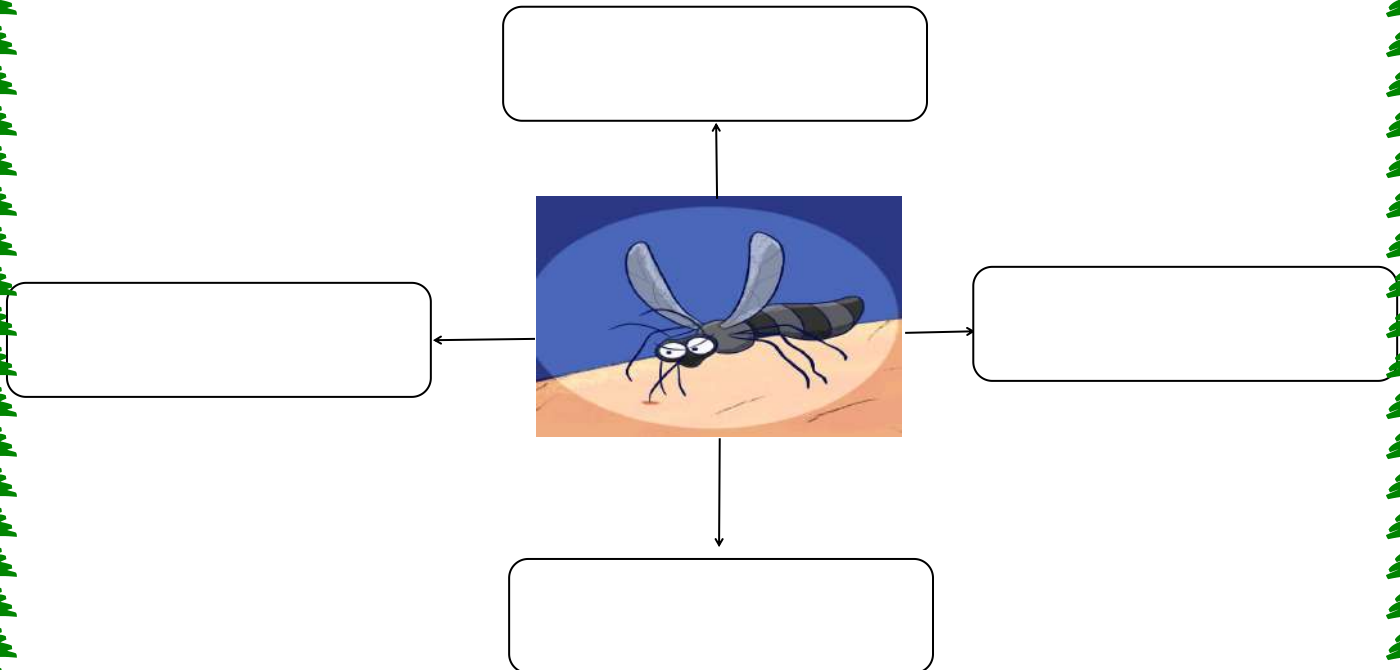
Liver

Large intestine

Small intestine





Q3. Write different diseases caused by mosquitoes in the given space-



Q4. Mention any three measures to prevent ourselves from spread of such diseases.

Q5. Write the benefits of following asanas in space provided-

 <p>KAPALBHATI</p> <hr/> <hr/> <hr/> <hr/> <hr/>	<p>VAJRASANA THE THUNDERBOLT POSE</p>  <hr/> <hr/> <hr/> <hr/> <hr/>
--	---