

WINTER HOLIDAY ASSIGNMENT (2025-26)

CLASS - IV

It's Winter Vacation

It's winter vacation.
It's time that you take
a couple of weeks for
a holiday break.

I hope that your house is
abounding with joy.
I hope that you get
a new game or new toy.

I hope you have plenty
of wonderful food,
and family around you
to brighten the mood.



I hope that you're happy
and full of good cheer.
Enjoy your vacation.
I'll see you next year!

— Kenn Nesbitt

Winter holidays are a time to relax, enjoy and learn in fun ways. This holiday homework is designed to help students revise their concepts, improve creativity, and develop good habits while enjoying their winter break. Complete all tasks neatly and sincerely to make learning joyful.

"WISHING YOU AND YOUR FAMILY A VERY HAPPY AND PROSPEROUS

NEW YEAR 2026..."

PRACTICE WORKSHEET (2025-26)
CLASS – IV
ENGLISH

Name : _____ **Sec:** _____ **Roll No.** _____

Q1. Fill in the blanks with suitable prepositions-

1. John asked me to go _____ him to buy a pair _____ shoes.
2. I was born _____ February 25, 2009 _____ New Delhi.
3. The train arrived _____ the station _____ time.
4. Shiva kept the pizza _____ the table.
5. Anu is going home _____ her grandmother.
6. My father looked _____ his keys _____ the table.
7. Jack sat _____ a chair lying _____ a corner.

Q2. Complete the sentences using suitable conjunctions-

- A) Ronny is poor _____ he will never steal money.
- B) Rohan is crying _____ he has lost his wallet.
- C) _____ the tortoise ran slowly, He won the race.
- D) Would you like a cup of tea _____ coffee?
- E) I enjoy singing _____ dancing.

Q3. There is an error in each line. Find out the error and write the correct and incorrect word in space provided:

	<u>Incorrect</u>	<u>Correct</u>
a. Jatin bought blew shirt for the party.	_____	_____
b. Meena wore a hat because she could not bare the heat.	_____	_____
c. This shop does not except any card.	_____	_____
d. Mini got many compliments for her knew dress.	_____	_____
e. I'm so hungry, I can eat this hole pizza.	_____	_____

Q4. Paragraph Writing-

Imagine your friends are playing on the road side and their ball bounced on the road in the middle of green light. What would you like to suggest your friends. Also, write any five safety rules which we must follow on the road.



Art Integrated Activity-

Using colourful sheets and pictures, make a travel brochure on any one state of India and write the following –

- Tourist attraction
- Famous food
- Festivals celebrated

शीतकालीन गृहकार्य 2025-26

कक्षा - चौथी

विषय - हिंदी

प्रश्न 1 निम्नलिखित गद्यांश को पढ़कर पूछे गए प्रश्नों के उत्तर दीजिए

आज का युग भागमभाग भरा युग है। आदमी दौड़ रहा है। हर कोई व्यस्त है। उसके पास दूसरों के लिए तो क्या अपने लिए भी समय नहीं है। ऐसे में लोग अपने परंपरागत भोजन को छोड़कर जंक फूड की ओर आकर्षित हो रहे हैं, किंतु आज यह जंक फूड उनकी सेहत के लिए सबसे बड़ी चुनौती बनकर खड़ा हो गया है। महानगरों से होता हुआ यह अब नगरों और कस्बों तक भी पहुँच चुका है। बच्चे और युवा पीढ़ी इसकी आदी होती जा रही है। इस जंक फूड के अंदर कृत्रिम स्वाद तो है, किंतु सेहत नहीं। तरह-तरह के मसालों और चिकनाई से भरपूर जंक फूड की अति पेट के लिए बिलकुल भी सही नहीं है। इसका अधिक सेवन पाचन तंत्र को खराब करता है। इसलिए हमें जंक फूड का आदी नहीं बनना चाहिए।

(क) आज के युग के लिए कौन-सा कथन सही है?

(i) यह भागमभाग भरा युग है। ()

(ii) आदमी के पास सभी के लिए बहुत समय है। ()

(iii) जंक फूड उनकी सेहत के लिए बहुत अच्छा है। ()

(iv) सभी पारंपरिक आहार की ओर लौट रहे हैं। ()

(ख) जंक फूड से कौन-सा भोजन उपेक्षित हो गया है?

(i) परंपरागत भोजन ()

(ii) विदेशी भोजन ()

(iii) क्षेत्रीय भोजन ()

(iv) फलाहार ()

(ग) कौन जंक फूड के अधिक आदी होते जा रहे हैं?

(i) विदेशी लोग ()

(ii) युवा और बच्चे ()

(iii) बुजुर्ग ()

(iv) कोई नहीं ()

(घ) जंक फूड के अंदर कृत्रिम स्वाद तो है, किंतु _____ नहीं। खाली जगह के लिए सही शब्द होगा-

(i) जायका ()

(ii) टेस्ट ()

(iii) सेहत ()

(iv) आनंद ()

प्रश्न 2 उचित मुहावरे से वाक्य पूरे कीजिए

ईद का चाँद होना

दाँत खट्टे कर देना

फूला न समाना

दिन-रात एक करना

आग में घी डालना

(क) हमारी सेना ने शत्रु सेना के _____ दिए।

(ख) अपने कार्य की प्रशंसा सुनकर वह खुशी से _____।

(ग) मित्र अब तो तुम मिलते ही नहीं, _____ हो गए हो।

(घ) डॉक्टर बनने के लिए _____ पड़ता है।

(ङ) पिता से झूठ बोलकर तुम _____ रहे हो।

प्रश्न 3 दिए गए वाक्यों में क्रिया शब्दों को रेखांकित कीजिए-

(क) हवा से पत्ते हिल रहे हैं।

(ख) मोची ने जूता सिला।

(ग) तारे चमक रहे हैं।

(घ) नदी बह रही है।

(ङ) माली ने पौधों में पानी दिया।

(च) बच्चे खेल रहे हैं।

प्रश्न 4 दिए गए चित्र में अपनी इच्छानुसार रंग भरिए और इसमें से विशेषण विशेष्य के पांच जोड़े बनाइए।



विशेषण

विशेष्य

(i) _____

_____.

(ii) _____

_____.

(iii) _____

_____.

(iv) _____

_____.

(v) _____

_____.

प्रश्न 5 कोष्ठक में दिए गए क्रिया शब्दों का सही रूप लिखकर खाली जगह भरिए-

(क) सीमा ने गीत _____।

(गाना)

(ख) हवा _____ रही है।

(चलना)



(ग) राम को पुरस्कार _____। (मिलना)

(घ) करन ने खीर _____। (खाना)

(ङ) मूर्तिकार ने मूर्ति _____। (बनाना)

(च) दादी ने पत्र _____। (लिखना)



प्रश्न 6 दिए गए शब्दों के पर्यायवाची शब्द-जाल में ढूंढ़िए-

प	ह	वा	टि	का
ड़	का	स	न	न
नौ	क	र	शि	त
ल	ड़	का	ख	शै
ग	ज	जं	ग	ल

पवन

दिन

पक्षी

वन

बालक

बाग

सेवक


हाथी

प्रश्न 7 इस बार आप सर्दियों की छुट्टियों में दादा-दादी / नाना-नानी के घर नहीं जा पा रहे हैं। आपको उनकी याद आ रही है इसलिए उन्हें अपने घर आमंत्रित करते हुए पत्र लिखिए।

प्रश्न 8 परिश्रम से ही सफलता मिलती है विषय पर भाषण तैयार कीजिए।

**HOLIDAY HOMEWORK
ASSESSMENT (2025-26)**

**CLASS IV
MATHEMATICS**



- Learn tables 2 to 15.
- **ACTIVITY CORNER-** Prepare a table of your daily routine. Mention the number of hours you spend on each activity and convert it into minutes and seconds. (To be done on A4 sheet)

Practice worksheet

Q1. Find-


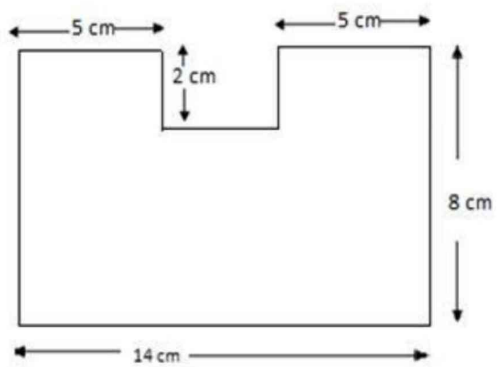

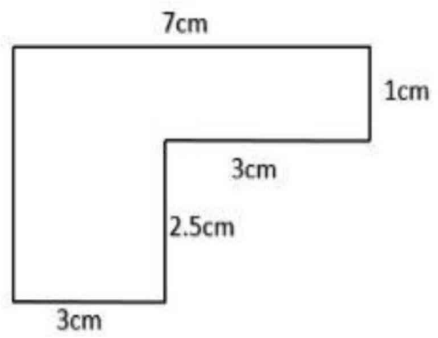

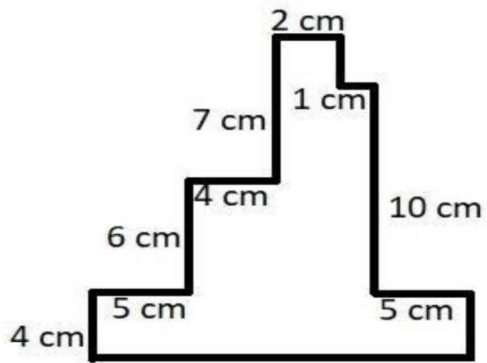
a. $\frac{5}{8}$ of 32

--

b. $\frac{7}{8}$ of 64


--

Q2. Find the perimeter of the following figures –



Q3. Find the area and perimeter of the following –

- a. A rectangle having length – 7cm , breadth – 5cm b. A square of Side- 9cm



Q4. Pinky reads $\frac{1}{6}$ of a story book on the first day and $\frac{1}{3}$ the second day how much of the book has been read?

A large empty rectangular box for the student to write the solution to question 4.

Q5. The length of a rectangular field is 120 m and its breadth is 60 m. Kush ran twice around the field along the boundary. Find the distance that Kush ran.

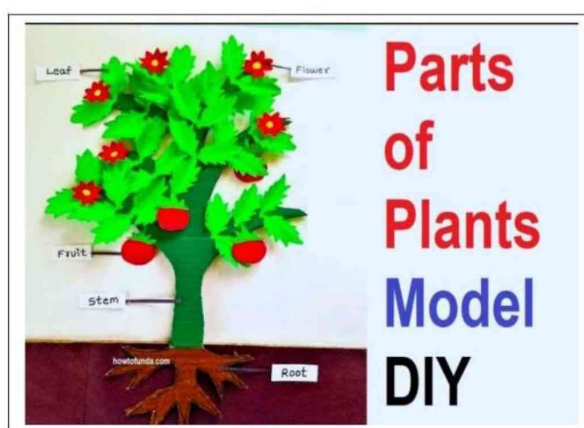
A large empty rectangular box for the student to write the solution to question 5.

WINTER ASSIGNMENT (2025-26)

CLASS- IV

EVS

- Make a **Plant model** using Clay, Paper, or Waste material Label Roots, Stem, Leaves, Flowers



- On Political Map of World –
Mark the continents and the ocean and paste it on your notebook.
- Make a poster on A-3 size sheet on the following topics according to your roll no-
 - Water pollution and its effects on environment (1-25)
 - Clean India, Green India (25 onwards)
- Revise all the chapters done in the class

PRACTICE WORKSHEET

CLASS – IV

NAME _____

SECTION _____

ROLL NO _____

Q1. Look at the picture and answer the following questions-



a. What is the symbol representing the Indian Rupee?

i) \$

ii) ₹

iii) ¥

b. Currency symbols help identify the _____ of currency.


c. What does one side of a coin show apart from the national emblem?

Q2. Guess who am I?

a. I craft shelves, cupboards, windows, and doors in the house.

b. I apply paint to the walls, and the polish work on the doors and windows.

Q3. Label the given diagram and answer the following questions-



- a. Bricks are baked in a _____.
- b. The temperature ranges from _____ to _____.
- c. Describe the process of making and baking bricks.

- d. Differentiate between Rural houses and urban houses. (any 4 points)

Q4. a. Identify and write name the following birds -














b. Fill in the blanks –

- i. Animals such as _____ reside in burrows underground.
- ii. _____ are used by birds to catch insects.
- iii. The _____ uses tools like a hammer, screwdriver, and soldering iron to install electric wires.
- iv. Once the walls and roof are built, they are sprayed with _____ everyday to prevent cracks.
- v. On a bus, passengers pay the conductor for a _____.