

WINTER HOLIDAY ASSIGNMENT (2025-26)

CLASS - VI



Vacation is the most beautiful moment of every student's life. They wait eagerly for the same. They need it for relaxation and improve their skills. It is the time to snuggle up in the blanket, have hot delicious food and spend time with the family. Utilize your time in the most appropriate time so that you can devote time to studies also.

***Wishing you and your family a very happy and prosperous
New Year 2026...***

WORKSHEET (2025-26)

CLASS-VI

ENGLISH

NAME _____ **SEC** _____ **ROLL NO** _____

Q1. Rewrite the following sentences by changing them into passive voice.

a. Sita eats a banana.

b. Raman painted a picture.

c. Sonia is singing a song.

d. The children were drinking water.

e. Mother cooked tasty food.

f. The dog bit the boy.

g. Children like sweets.

h. The cat ate the fish.

i. Everyone loves Zara.

j. Virat threw the ball.

Q2. Fill in the blanks with suitable articles.

1. I saw _____ old man. _____ man looked sad.

2. He is _____ engineer and his wife is _____ doctor.

3. Sumi bought _____ pencil and _____ eraser.

4. They have _____ big car. It is _____ expensive model.

5. I saw _____ small child. _____ child looked sick.

6. I have _____ bicycle. _____ bicycle is red in color.

This image shows a full page of blank white paper with horizontal ruling lines. The lines are evenly spaced and run across the width of the page, providing a template for writing or drawing. There are no margins, text, or other markings present.

❖ Art Integrated Activity-

Make a travelogue of your favourite tourist place and include the following-

- a. Weather conditions
- b. Tourist destinations
- c. Family tour packages

शीतावकाश कालीन कार्य 2025-26

कक्षा - छठी

विषय - हिंदी

प्रश्न 1 निम्नलिखित गद्यांश को पढ़कर पूछे गए प्रश्नों के उत्तर दीजिए-

'कूड़ा' शब्द सुनते ही मन में घृणा का भाव आ जाता है और आए भी क्यों नहीं, आखिर कूड़ा गंदगी जो है और गंदगी को देखकर छिःछिः मुँह से निकलना स्वाभाविक है। कूड़े के प्रति घृणा की इस भावना को वे लोग और बढ़ा देते हैं, जो सुबह होते ही अपने घर का कचरा बाहर सड़कों पर फेंककर निश्चित हो जाते हैं। यदि कूड़े को लेकर सही योजना बने तो कूड़ा समाज के लिए वरदान भी बन सकता है। आप यह सुनकर हैरान रह जाएँगे कि कई देशों में कूड़े से बिजली का उत्पादन किया जाता है। इस तकनीक से कूड़े की समस्या तो हल होती ही है, साथ ही साथ बिजली की समस्या का समाधान भी मिल जाता है। भारत सरकार की भी यह मंशा है कि कूड़े का इस प्रकार निस्तारण हो कि जिससे बिजली उत्पादन किया जा सके। इसके लिए लोगों को अलग-अलग प्रकार के कूड़े को सही जगह पर फेंकने के लिए जागरूक बनाया जा रहा है।

(क) 'कूड़ा' शब्द मन में कैसा भाव लाता है?

- | | |
|------------------------|-----------------------|
| (i) ईर्ष्या का () | (ii) द्वेष का () |
| (iii) लोभ का () | (iv) घृणा का () |

(ख) कूड़ा समाज के लिए वरदान कब सिद्ध हो सकता है?

- (i) जब कूड़े के समाधान की कोई सही योजना बने ()
- (ii) जब लोग कूड़े को लेकर पूरी तरह जागरूक हो जाएँ ()
- (iii) जब कूड़े से बिजली बनाने की सरकारी योजना सफल हो जाए ()
- (iv) जब कूड़े से हम मज़बूत ईंट बनाने लगे ()

(ग) कई देश कूड़े से क्या करते हैं?

- (i) खाद बनाते हैं ()
- (iii) बिजली का उत्पादन करते हैं ()
- (ii) खिलौने बनाते हैं ()
- (iv) कूड़े से पेट्रोल बनाते हैं ()

(घ) भारत सरकार की भी यह मंशा है। इस वाक्य में 'मंशा' की जगह आने वाला अन्य सही शब्द क्या होगा?

(i) इच्छा ()

(ii) विश्वास ()

(iii) उम्मीद ()

(iv) आशा ()

(ङ) कूड़े के प्रति घृणा का भाव कौन लोग और बढ़ा देते हैं?

प्रश्न 2 निम्नलिखित शब्दों का संधि विच्छेद कीजिए-

(i) छात्रावास

(ii) रवींद्र

(iii) गुरूपदेश

(iv) हरीच्छा

(v) धर्मार्थ

(vi) वधूत्सव

(vii) वार्तालाप

(viii) भानूदय

प्रश्न 3 निम्नलिखित शब्दों का संधि संयोजन कीजिए -

(i) देव + आलय -

(ii) गिरी + ईश -

(iii) सु + उक्ति -

(iv) स्व + अर्थ -

(v) मुनि + ईश्वर -

प्रश्न 4 संकेत के आधार पर शब्दों से वर्ग पहेली भरिए-



बाएँ से दाएँ →

1. जिसे लज्जा न आती हो
2. दूसरे देश में रहने वाला
3. जिसका आकार न हो
4. जिसे अनुभव हो
5. दूर की सोचने-समझने वाला

शब्द-पहेली

	1			2		2	3	
3								
5								
		4						
						5		



ऊपर से नीचे ↓

1. जिसका कोई आधार न हो
2. जो जन्म से अंधा हो
3. देश की भक्ति करने वाला
4. जिसकी कोई सीमा न हो
5. जो बोल न सके

प्रश्न 5 उदाहरणानुसार दिए गए शब्दों के विलोम शब्द लिखकर उन्हें एक ही वाक्य में प्रयोग कीजिए।

गुण – अवगुण - हमें लोगों के गुणों को अपनाना चाहिए अवगुणों को नहीं।

(i) उदय –

.....

(ii) सरल –

.....

(iii) लाभ –

.....


(iv) छोटा –

.....

(v) मूक –

.....

प्रश्न 6 समानार्थी शब्दों के जोड़े बनाकर लिखिए -



प्रश्न 7 नीचे दिए गए वाक्यों में क्रिया का रूप अकर्मक है या सकर्मक लिखिए -

(i) उमा ने गाय को घास खिलाई।

.....

(ii) लड़का दौड़ रहा है।

.....

(iii) हमें पर्यावरण बचाना चाहिए।

.....

(iv) बच्चे मैदान में खेल रहे हैं।

.....

(v) वह बहुत अच्छा अभिनय करता है।

.....

(vi) मालिन फूलों की मालाएं बनाती है।

.....

प्रश्न 8 अपने पसंदीदा विषय पर स्वरचित कविता का निर्माण कीजिए। कक्षा में कविता प्रतियोगिता आयोजित की जाएगी।

प्रश्न 9 "पेड़ हमारे मित्र" विषय पर अनुच्छेद लिखिए



HOLIDAY HOMEWORK (2025-26)

MATHEMATICS

CLASS-VI

Art integrated project

Project Title:- “Maths in Art ”

Instructions:

Prepare this project on **A3 size sheets**. Use colours, sketches, and creativity.

Cover Page:-

- Project Title
- Name
- Class & Section
- Subject: Mathematics
- Teacher's Name

Prepare the following on A3 size sheets-

- Fraction peacock, using circular fraction. **(Roll no-1 to 10)**
- Unit conversion stairs, using matchboxes. **(Roll no 11 to 20)**
- Different type of numbers(eg -prime ,even, odd, composite, twin prime.....etc) on a chart paper or scrapbook. **(Roll no- 21 to 30)**
- Collage on symmetry. **(Roll no -31 onwards)**

WORKSHEET

(Do on A4 size sheets)

1. Find the common factors of 56 and 120.
2. Aarushi read a book on Mathematics for $5\frac{2}{3}$ hours in a week .Yashvi read a book on science for $2\frac{1}{4}$ hours in the same week. How many more hours Aarushi read than Yashvi?
3. Find the common multiple of 4, 8 and 12.

4. Write five real-life situations where integers are used.
5. Find the perimeter of a rectangle whose area is 650 sq cm and its breadth is 13 cm.
6. The sum of two integer is 48. If one of the integer is – 24, determine the other.
7. Simplify: $4\frac{2}{3} - 3\frac{1}{4} + 2\frac{1}{6}$
8. What will happen to the area of a square if its side is: (a)doubled (b)halved?
9. Find the value of $50-(48)-(4)-10$.
10. Write two differences between **prime numbers** and **composite numbers**
11. Find the **prime factorization** of:
a) 236 b) 60 c) 84
12. Is the first number divisible by the second? Use prime factorization:
a) 225 and 27 b)1890 and 126 c) 96 and 24

Note:- Practice and Revise all the chapters of Class 6 Ganita Prakash.

WINTER ASSIGNMENT

CLASS-VI

SCIENCE

1. PROJECT + ACTIVITY

Topic: Life processes in plants

- Draw a **comic strip** showing stages: Seed → Germination → Plant → Flower → Fruit.
- Add speech bubbles explaining each stage.
- Colour creatively.

(OR)

Topic: Electric Circuits – Lighting Up Creativity

- Make a **working electric circuit** on cardboard.
- Decorate the base using art patterns.
- Label each part neatly.

2. Complete notebook, workbook & Practical lab manual work.

3. REVISE ALL THE CHAPTERS DONE.

PRACTICE WORKSHEET

A. TICK THE CORRECT OPTION:

1. At what temperature does water boil on the Celsius scale?
(a) 0 degree C (b) 32 degree C (c) 100 degree C (d) 273 degree C
2. Which field uses temperature measurement to diagnose and monitor fever?
(a) Astrology (b) Construction (c) Healthcare (d) Meteorology
3. What is the smallest value that can be measured by the laboratory thermometer?
(a) 0.1 degree C (b) 0.5 degree C (c) 1 degree C (d) 2 degree C
4. Magnets attract which of the following materials?
(a) Paper (b) Plastic (c) Rubber (d) Iron
5. Which of the following is a natural magnet?
(a) Bar Magnet (b) Horseshoe magnet (c) Lodestone (d) Ring magnet
6. Which part of a magnet has the strongest attractive force?
(a) Exactly its centre (b) The middle region (c) Ends (d) None of these

B. State whether the following statements are True or False:

1. A ring magnet has only one pole. _____
2. Like poles of two magnets attract each other. _____
3. Cobalt is a magnetic material. _____
4. The Fahrenheit scale shows the normal human body temperature as 37.0 degree F. _____
5. Clinical thermometers are graduated in kelvin. _____

C. Fill in the blanks using appropriate word (s):

1. On the Kelvin scale the boiling point of water is _____.
2. A room thermometer measures _____ temperature.
3. Two poles of magnet cannot be _____ from each other.
4. Magnets used in pencil boxes and toys are _____ magnets.

D. Match the following:

COLUMN 1

1. S-N
2. S-S
3. Cobalt
4. Plastic
5. Middle of the magnet

COLUMN 2

- (a) Least magnetism
- (b) Gets attracted by magnet
- (c) Repulsion
- (d) Poles of a bar magnet
- (e) Cannot be magnetized

E. Unscramble the following words:

(a) ARTOBOYRAL _____

(b) LISCESU _____

(c) MATUREPREET _____


(d) LACINILC _____

F. (a) What is the role of a magnet in a compass?

(b) Draw a neat and labelled diagram of a laboratory thermometer.



(c) With the help of a diagram explain how bar magnets are stored safely.



(d) Explain the three precautions in using laboratory thermometer.

(e) A thermometer shows the temperature reading 353 K. Convert this temperature into Celsius scale.

SOCIAL SCIENCE
CLASS VI
WINTER BREAK HOLIDAY HOMEWORK

PROJECT WORK

➤ **Make a project file on different land forms of India.**

Include the following points:-

- a. Geographical locations
- b. Lifestyle and Occupation
- c. Tourism and Economy

NOTE: Project should be of 8-10 pages.

➤ **On the World Political Map, mark the Major ANCIENT Civilization.**



WORKSHEET (HISTORY)

Q1. Fill in the blanks:-

- a. In the Neolithic Age, man lived in_____.
- b. The Harappan civilization is also known as _____.
- c. _____ and _____ are Indus valley sites located in India.
- d. The Indus valley people used _____ script for writing purposes.

Q2. Mark True or False against the following statement.

- a. The Harappa people knew the art of boat/ship making.
- b. A great bath had been excavated at Ropar.
- c. The Indus valley civilization flourished around 1500 B.C.

Q3. Define the following terms:-

- a. Dockyards
- b. Civilization
- c. Dicing

Q4 .Answer the following questions:-

- a. Give two reasons to suggest that the Indus Valley people cared for the children's amusements.
- b. Describe the legacy and contribution of Indus Valley Civilization.
- c. Write a short note on economic and social life of the people of the Indus valley.
- d. Evaluate the impact of Harappan town planning on modern urban development.

WORKSHEET (GEOGRAPHY)

Q1. Fill in the blanks:-

- a. A _____ is a mass of land considerably higher than the surrounding area.
- b. _____ is the major economic activity on plateaus.
- c. _____ in the Western Europe is the highest mountain of the Alps.
- d. The Chhota Nagpur region is known for its reserves of _____.

Q2. Mark True or False against the following statement.

- a. The Deccan Plateau is the largest and the highest Plateau of the World.
- b. Gobi is a cold desert in South America.
- c. Mosses and lichens grown on mountain slopes.

Q3. Define the following terms:-

- a. Terrace Farming
- b. Lumbering
- c. Plains

Q4. Answer the following questions:-

- a. Evaluate the role of mountains in India's culture and heritage.
- b. Plateaus are less fertile than plains .Give reason.
- c. Describe the different characteristics of Mountains and Hills.
- d. The number of people living on different kinds of landform varies throughout the world. Give reason.

WORKSHEET (CIVICS)

Q1. Fill in the blanks:-

- a. Panchayati Raj with its three tier system is the idea of the _____.
- b. _____ was an ardent supporter of the village panchayat.
- c. Panchayat are under _____ government.

d. _____ maintains records and register of the work done by panchayat.

Q2. Mark True or False against the following statement.

- a. No seats are reserved for anyone in the village panchayat.
- b. Zila Parishad is the second tier of the Panchayati Raj system.
- c. The Gram Panchayat consist of five members who are elected.

Q3. Define the following terms:-

- a. Panchayti Raj
- b. Gram Sabha
- c. Zila Parishad

Q4. Answer the following questions:-

- a. Mention any three functions of village panchayat.
- b. State the main objective behind the Panchayati Raj System
- c. How do Child Friendly Panchayat initiatives benefit children in rural areas?
- d. Discuss the importance of women's participation in the Panchayati Raj System.

NOTE: Do the assignments on ruled sheets.

शीतावकाश कालीन कार्य (2025-26)

कक्षा - छठी

विषय - संस्कृत

1. संस्कृत रचनात्मक कार्यम्

प्रश्न 1- फलों के नाम तथा सब्जियों के नाम A3 साइज शीट पर अलग-अलग सचित्र प्रस्तुत करें।

प्रश्न 2-नीचे लिखे गए गद्यांश को पढ़कर प्रश्नों के उत्तर दीजिए।

भारतस्य उत्तरदिशाया पर्वतराजः हिमालयः अस्ति। सः सर्वदा हिर्मन आच्छादितः भवति। हिमालयः शत्रुभ्यः अस्मान् रक्षति। सः भारतस्य मुकुटमणिः श्व शोभते। गंगा हिमालयात् निस्सरति। हिमालयस्य शिखराणि अति उन्नतानि सन्ति।

(I) एक पद में उत्तर लिखें।

(क) भारतस्य उत्तरदिशायां कः अस्ति?

(ख) हिमालयः केन आच्छादितः अस्ति?

(II) पूर्ण वाक्य में उत्तर लिखें।

(क) कः शत्रुभ्यः अस्मान् रक्षति?

(ख) कः भारतस्य मुकुटमणिः इव शोभते?


(III) निर्देशानुसार उत्तर लिखें।

(क) ' शिराणि' शब्दस्य किं विशेषणपदम् ?

(ख) ' हिमगिरे' इत्यस्य किं समानार्थकपदम् गद्यांशे प्रयुक्तम्?

प्रश्न 3- चित्र को देखकर मंजूषा की सहायता से रिक्त स्थान की पूर्ति करें।

धावन्ति , क्रीडाक्षेत्रम् , पादकन्दुकेन , वार्त्तालापं , बालकाः



- (क) एतत् _____ अस्ति।
 (ख) _____ अत्र क्रीडन्ति ।
 (ग) बालकाः _____ क्रीडन्ति ।
 (घ) बालकाः _____।
 (ङ) बालकाः _____ कुर्वन्ति।

प्रश्न 4- मंजूषा की सहायता से रिक्त स्थानों की पूर्ति करें।

तस्य , भ्रातरः , पत्नी , सीता , श्रीरामः , राजा , आसीत् , त्रयः

पुत्रः - पितः, _____ कः आसीत्?

पिता - श्रीरामः अयोध्यायाः _____ आसीत्।

पुत्रः - तस्य पितुर्नाम किम् _____ ?

पिता - _____ पिता दशरथः आसीत्।

पुत्रः - श्रीरामस्य कति _____ आसन् ?

पिता - श्रीरामस्य _____ भ्रातरः आसन्।

पुत्रः - तस्य _____ का आसीत्?

पिता - तस्य पत्नी _____ आसीत्।

प्रश्न 5- उचित अव्यय द्वारा रिक्त स्थान की पूर्ति करें।

सदा , च , कुत्र , उच्चै , अद्य

(क) रमा _____ हसति।

(ख) सः _____ सत्यं वदति।

(ग) देवः _____ गच्छति?

(घ) _____ कार्यालयस्य अवकाशः अस्ति।

(ङ) बालः बालिका _____ क्रीडतः।

प्रश्न 6- निम्न संख्या को संस्कृत में लिखें।

(क) 16 _____

(ख) 18 _____

(ग) 09 _____

(घ) 07 _____

(ङ) 15 _____

(च) 20 _____

प्रश्न 7- उचित विशेषण द्वारा रिक्त स्थान की पूर्ति करें।

(क) _____ बालौ।

(वीरौ / वीराः)

(ख) _____ वचनम्।

(मधुरः / मधुरम्)

(ग) _____ बाला।

(कोमलम् / कोमला)

(घ) _____ शाखे।

(चंचले / चंचलौ)

(ङ) _____ काकाः ।

(कृष्णौ / कृष्णाः)

प्रश्न 8- निम्नलिखित शब्दों का वर्ण - विच्छेद करें।

(क) लक्ष्मीः _____

(ख) पुस्तकम् _____

(ग) कपाटः _____

(घ) मयूरः

(ङ) लेखनी

प्रश्न 9-निम्नलिखित शब्दों को वचन के अनुसार पृथक करके लिखें।

सेविका , गजौ ,मयूरः ,कपोताः ,सिंहाः ,लता , पत्रम् , छाया ,अश्वौ ,हस्ताः ,पादाः ,वृक्षौ ,बालाः,छात्रौ, मर्कटाः

एकवचन

द्विवचन

बहुवचन
